



امتحانات أبنائنا في الخارج

ملف تقييم الأداء

رياض أطفال
المستوى الأول
Kg1

باللغة الفرنسية

الفصل الدراسي

الثاني

2026



رقم الجلوس:

اسم الطالب:

سفارة جمهورية مصر العربية في دولة:



غير مصرح
بالكتابة فيها

جمهورية مصر العربية





إرشادات عامة

- يتم تحميل ملف التقييم للطالب باللفة الفرنسية للطلاب المتقدمين على (النظام لغات فرنسي) من خلال المنصة الالكترونية لأبنائنا في الخارج بوزارة التربية والتعليم :


<http://saboard.emis.gov.eg>

- يتم طباعة الملف ويقوم الطالب بالإجابة عن الأنشطة الموجودة.
- يتم رفع الملف بعد الانتهاء من الإجابة عليه على المنصة الالكترونية لأبنائنا في الخارج.
- يتم تحميل الملف ورفعها بعد استكمالها بداية من وضعها على المنصة ولمدة أسبوعين.
- لا يتم ارسال أية ملفات تقييم ورقية ، ويتم التعامل من خلال المنصة الالكترونية فقط
- يتم تحميل الملف ورفعها من خارج جمهورية مصر العربية فقط.

لون الصور التي تبدأ بحرف الـ (ش) باللون الأصفر والصور التي تبدأ بحرف الـ (ع) باللون الأحمر:



صل كل حرف بالصورة التي بها صورته



اكتب الحرف الأول:



.....



.....



.....



.....



.....



.....




.....



.....

صل كل حيوان بالمكان الذي يعيش فيه:



ضع دائرة حول الحرف في الكلمة :




ضع علامة (✓) عند الصورة التي تبدأ بنفس الحرف :



Complète le motif



Compte et écris





Dessine des cercles pour former le nombre



9

6

Compte et additionne



Élimine 4 éléments de chaque groupe et écris le résultat.







1. Entoure d'un cercle les images qui représentent une vraie plante.



2. Relie chaque objet qui est fabriqué avec son matériel.



Le papier



Le métal






Le plastique

3. Entoure deux marchandises. Entoure les prix pour dire combien d'argent faut - il pour les acheter



4. Mets un « X » sur ce qui n'appartient pas au monde vivant.



5. Entoure d'un cercle ce dont tu as besoin. Entoure d'un carré ce que tu désires avoir.



ملف تقييم الأداء

Kg1

رياض أطفال
المستوى الأول

باللغة الفرنسية

الفصل الدراسي الثاني 2026